



(码上有料，查看完整版答案+解析)

重庆市专接本《计算机基础》真题（2017年）

一、单选选择题

- 1、一个 24*24 点阵汉字的字形库存储容量是 ()
 - A. 9 个字节
 - B. 24 个字节
 - C. 72 个字节
 - D. 576 个字节
- 2、在浏览器中，刷新当前页面内容的快捷键是 ()
 - A. F1
 - B. F5
 - C. F8
 - D. ESC
- 3、以下操作系统中，主要用于智能手机和平板电脑等移动设备，开放源代码程序最高的是 ()
 - A. Android 系统
 - B. Apple 系统
 - C. Windows 系统
 - D. Unix 系统
- 4、操作系统具有五大功能模块，其中直接面向用户的、最外层的功能是 ()
 - A. 处理器管理
 - B. 存储管理
 - C. 设备管理
 - D. 作业管理
- 5、关于文件和文件夹的描述，错误的是 ()
 - A. 文件是用名称来标识的一组相关信息的集合

- B. 文件名一般包含主文件名、圆点和扩展名，文件的扩展名可以修改
- C. 文件夹可以包含文件，文件也可以包含文件夹
- D. 文件的类型有很多种，一般可以用文件的扩展名区分

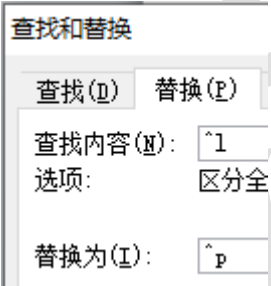
6、在 Windows 中，对活动窗体范围内的屏幕截图使用的快捷键是 ()

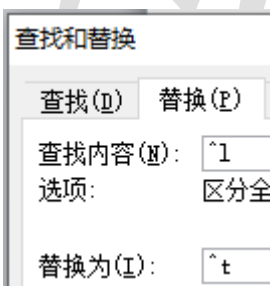
- A. PrintScreen
- B. Alt+PrintScreen
- C. Ctrl+PrintScreen
- D. Shift+PrintScreen

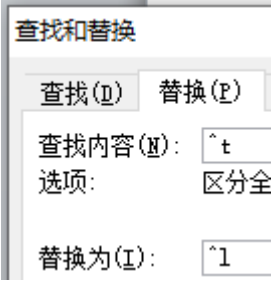
7、在计算机中，对音符进行编码，用于记录乐曲的文件格式是 ()

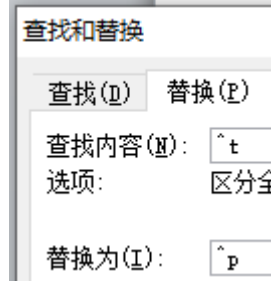
- A. JPEG
- B. MPEG
- C. MID
- D. MP3

8、将 Word 文档中的手动换行符↓替换成段落标记符，正确的操作是 ()

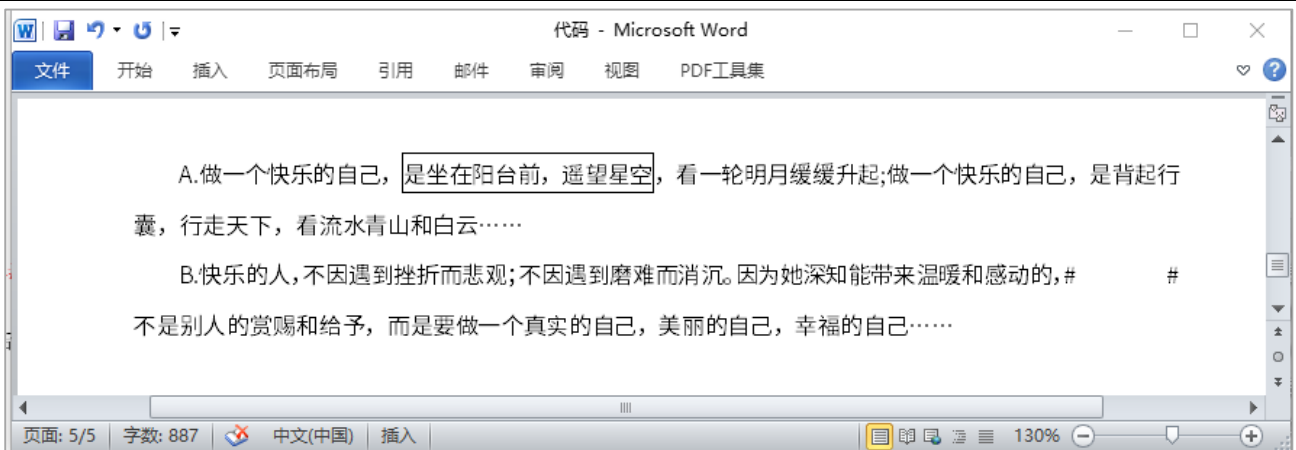
A. 

B. 

C. 

D. 

9、如题 9 图所示的 Word 文档，段落 A 和段落 B 格式不同，将段落 A 中带框文字部分移至段落 B 两个#之间后，则 ()。



- A. A 和 B 的段落格式均不会改变
- B. A 的段落格式变为 B 的段落格式
- C. A 的段落格式与 B 的段落格式相互对换
- D. B 的段落格式变为 A 的段落格式

10、下列关于 Word 的描述中，说法正确的是 ()

- A. 邮件合并功能只能用于创建单个信函
- B. 样式是指文档中标题的分组列表，样式可以体现不同标题之间的层次性
- C. 目录可以列出文档中的关键词和关键短语，以及它们所在的页码
- D. 自动生成目录的前提是在文档中插入脚注

11、在 Word 文档中，将题 11 图 A 转换成图 B 的形式，可以使用的功能是 ()。

学号	姓名	计算机	英语
001	熙然	98	99
002	可文	92	74
003	月如	88	52

第 11 图 A

学号	姓名	计算机	英语
001	熙然	98	99
002	可文	92	74
002	月如	88	52

第 11 图 B

- A. 拆分表格
- B. 边框和底纹
- C. 文本转换成表格
- D. 表格转换成文本

12、在 PowerPoint 中，对指定对象进行动作设置，不能完成的是 ()

- A. 超链接到
- B. 运行程序
- C. 播放声音
- D. 更换背景

13、下列关于 IPv6 地址的描述中，不正确的是 ()

- A. IPv6 比 IPv4 具有更大的地址空间
- B. IPv6 比 IPv4 具有更小的路由列表
- C. IPv6 增强了组播、流数据和网络安全性
- D. IPv6 地址不能自动配置

14、Internet 域名中的.gov 一般表示 ()

- A. 政府机构
- B. 教育机构
- C. 网络管理机构
- D. 商业机构

15、目前 Internet 采用的协议是 ()

- A. IPX/SPX
- B. NetBEUI
- C. OSI/RM
- D. TCP/IP



码上有料

16、如题 16 图所示 Excel 工作表，实发工资=基本工资+津贴+奖金-扣款+每人高温补贴，每人高温补贴金额存放在 H2 单元格中，在单元格 H4 中输入公式后，得到工号 1001 的实发工资，然后将 H4 的公式复制到 H5 至 H9 单元格，均可得到正确的实发工资。则 H4 单元格应该输入的公式为 ()。

	A	B	C	D	E	F	G	H
1	2016年8月员工工资表							
2						每人高温补贴		130
3	工号	姓名	职务	基本工资	津贴	奖金	扣款	实发工资
4	1001	诚实	销售员	3800	700	625	45.3	
5	1002	芳芳	会计	3900	800	456.6	67	
6	1003	李想	销售员	3800	700	467	23.6	
7	1004	蓝天	工程师	4000	900	879	75	
8	1005	宋凝霜	销售员	3800	700	456.7	12	
9	1006	白雪	会计	3900	800	568.9	87.5	

- A. =D4+E4+F4-G4+H2
- B. =D4+E4+F4-G4+H\$2
- C. =D4+E4+F4-G4+\$H2
- D. =D4+E4+F4+G4+\$H\$2

17、与 IP 地址 192.168.0.1，子网掩码 255.255.255.0 同网段主机的 IP 地址是 ()

- A. 192.168.0.0
- B. 192.168.0.2
- C. 192.168.1.0
- D. 192.168.1

18、在 Windows 中，弹出相关对象快捷菜单的操作是 ()

- A. 单击鼠标右键
- B. 单击鼠标左键
- C. 按下 F1 键
- D. 按下 ESC 键

19、为了保护个人隐私，可以消除的上网痕迹中不包括 ()

- A. 浏览器历史记录
- B. 地址栏下拉列表
- C. 下载的历史记录
- D. 本机 IP 地址

20、为了保证内部资料不被外部网非法获取，可以采用的方法是 ()

- A. 使用 wi-fi
- B. 安装摄像头
- C. 安装防火墙
- D. 使用网络浏览器

二、判断题

- 1、3G 手机的频率是 3G 赫兹，4G 手机是 4G 赫兹，所以 4G 手机比 3G 手机传播速度快 ()
- 2、以著名科学家图灵命名的奖项称为图灵奖，是目前计算机科学界的最高奖，被称为计算机界的诺贝尔奖 ()

- 3、云存储通过集群应用、网络技术或分布式文件系统等功能，将网络中不同类型的存储设备集合起来协同工作，共同提供数据存储和业务访问 ()
- 4、手机导航软件是手机操作系统中不可分割的组成部分 ()
- 5、云计算是基于互联网的相关服务的增加、使用和交付模式，通常涉及通过互联网来提供动态易扩展且经常是虚拟化的资源 ()
- 6、冯·诺依曼思想的核心是采用二进制来表示数据和指令 ()
- 7、决定计算机计算精度的主要技术指标是计算机的存储容量 ()
- 8、模拟信号和数字信号在计算机中均可以用二进制编码表达 ()
- 9、可通过设置高速缓冲存储器 (Cache) 来增加计算机内存的容量 ()
- 10、机器语言和汇编语言编制的程序运行效率低于高级语言，所以称为低级语言 ()
- 11、Windows 和 Office 是大部分计算机都要用的软件，所以都是系统软件 ()
- 12、电子商务网表示任何地点任何物体之间利用 RFID、传感器、智能终端等技术进行连接的网络 ()
- 13、Windows 中删除操作不可删除只读文件 ()
- 14、在 Word 中，页眉页脚可以设置成奇偶页不同、首页不同、节与节不同等格式 ()
- 15、在 Excel 中，引用运算符有逗号、冒号和空格 ()
- 16、在 PowerPoint 各种视图中，幻灯片放映视图可以同时浏览多张幻灯片，便于选择、添加、删除、移动幻灯片等操作 ()
- 17、计算机联网的目的是实现软件资源的共享，不能实现硬件资源共享 ()
- 18、一般情况下，被删除的电子邮件保存在本机的回收站中 ()



码上有料

19、计算机显示器产生的电磁辐射，可以被窃收装置接收并显示出来（）

20、在互联网时代，指纹、虹膜都可能被犯罪分子用来实施诈骗（）

三、填空题

1、已知大写字母 P 的 ASCII 码值为 50H，则大写字母 I 的 ASCII 码值为____H

2、汉字中字的国标码对应的十六进制为 5650H（二进制为 01010110 01010000），则它对应的机内码用十六进制表示为____

3、在资源管理器中，将一个盘符下的文件夹移动到另一个盘符下，可以使用的快捷键是 Ctrl+____和 Ctrl+V

4、在互联网中，连接局域网和广域网，根据信道的情况自动选择和设定路由，以最佳路径传送数据的设备是____

5、在计算机网络中，域名系统（DNS）的作用是将域名转换为____地址

四、操作题

1、下列程序执行后，屏幕输出的结果是（）。

```
clear
s="monkeys like banana, but dogs like bone."
sum=0
for i=0 to len(s)
  a=substr(s,i,1)
  if asc(a)=98
    sum=sum+1
  endif
endfor
?sum
```

A.3

B.5

C.7

D.9

2、已知表 1 的内容如下，下述程序运行后，屏幕上显示的计算结果为 ()。

记录号	甲方	乙方
1	55	79
2	82	63
3	62	62
4	89	96
5	51	90
6	77	87
7	28	28
8	63	69
9	27	72
10	69	63

```
dimension a(10),b(10)
s=0
use 表 1
go top
for i=1 to 10
    a(i)=甲方
    b(i)=乙方
    skip
endifor
s=0
for i=1 to 10
    if a(i)<>b(i)
        s=s+1
    endif
next
?s
```

- A. 6
- B. 7
- C. 8
- D. 9



码上有料

3、运行下述程序，屏幕上输出的结果 ()。

```
clear
x=50
for i=x to 2 step -1
    test=1
    for j=2 to x/2
        if i%j=0
            test=0
            exit
        endif
    endfor
    if test =1
        exit
    endif
endfor
if test=1
    ?i
else
    ?0
endif
```

- A. 49
- B. 47
- C. 45
- D. 43

4、运行下述程序，屏幕上输出的结果 ()。

```
i=1
s=1
do while s<30
    s=s*i
    i=i+1
enddo
?s
```

- A. 3
- B. 30
- C. 60
- D. 120

5、已知表 text 的内容如下，下述程序运行后，屏幕上显示的计算结果为（ ）。

地区	测试结果
前部 A	73
前部 B	58
前部 C	62
前部 D	36
中部 A	37
中部 B	79
中部 C	11
中部 D	78
后部 A	83
后部 B	73
后部 C	11
后部 D	47
后部 E	87
后部 F	81
后部 G	43

```

clear
a=50
dimension a(15)
use text
go top
for i=1 to 15
    a(i)=测试结果
    skip
endifor
s=0
for i=2 to 14
    if a(i)>a(i-1).and.a(i)>a(i+1)
        s=s+1
    endif
endfor
?s
    
```

- A. 8
- B. 4
- C. 2
- D. 1

6、运行下述程序，屏幕上输出的结果（ ）。

```

dimension a(16)
for i=0 to 9
    a(i+1)=48+i
next
for i=10 to 15
    a(i+1)=55+i
endifor
s=57
do while s>0
    n=s%16
    s=int(s/16)
    ??chr(a(n+1))
enddo
    
```



码上有料

- A. 39
- B. 62
- C. 81
- D. 93

五、问答题

1、有一筐橘子，分成2堆余1个，分成3堆余2个，分成4堆余3个，分成5堆余4个，编程计算这筐橘子的最少个数

2、寄存器



(码上有料，查看完整版答案+解析)